


ТЕСТОВИ-3/ 1-одд. Теми1: Местоположба

1) 10 поени/\_\_\_

Со знакот ✓ да се означи точното тврдење а со знакот ✗ да се означи НЕточното тврдење. Да се внимава на зборовите ВО, НА, ПРЕД, ЗАД, НАД, ПОД.




Кучето се наоѓа над чајникот.

Кучето е пред желката.

2) 10 поени/\_\_\_

Да се дополнат речениците со еден од зборовите ВО, НА, ДО, ПРЕД, ЗАД, НАД, ПОД.




а) Детето во количка е \_\_\_\_\_ дрвото.

б) Кучето е \_\_\_\_\_ дрвото.

3 10 поени/\_\_\_

Со знакот ✓ да се означи точното тврдење а со знакот ✗ да се означи НЕточното тврдење.

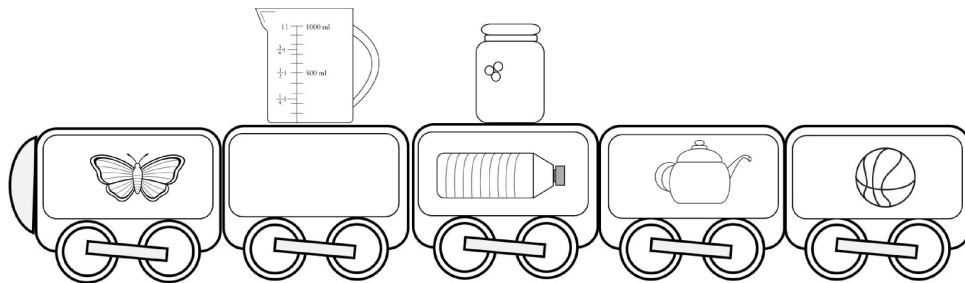


Пеперутката се наоѓа во садот за готвење.

Сендвичот се наоѓа над сите предмети.

4 10 поени/\_\_\_

Со знакот ✓ да се означи точното тврдење а со знакот ✗ да се означи НЕточното тврдење. Да се внимава на зборовите ВО, НА, ПРЕД, ЗАД, НАД, ПОД.


















Пеперутката се наоѓа во третиот вагон.







Шишето со вода се наоѓа во третиот вагон.

5) 10 поени/\_\_\_

Да се одговори со знакот ✓ за точните тврдења а со знакот × за неточните.

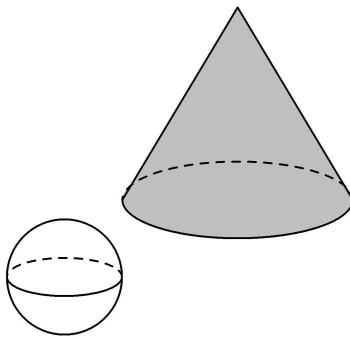


а)	Под		е		×
б)	Над		е		✓
в)	Над		е		×
г)	Над		е		×
д)	Под		е		✓
ѓ)	Над		е		×
е)	Под		е		×

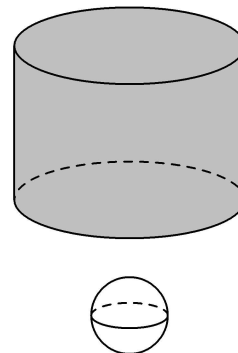
ж)	Над		е		✓
з)	Под		е		✗
с)	Под		е		✓

6) 10 поени/\_\_\_

Да се искористат два од зборовите ВО, НА, НАД, ПОД, ДЕСНО, ЛЕВО, ПРЕД, ЗАД за да се одреди точното тврдење:



а) Топката се наоѓа \_\_\_\_\_ пирамидата.




б) Топката се наоѓа \_\_\_\_\_ цилиндерот.

7) 10 поени/\_\_\_

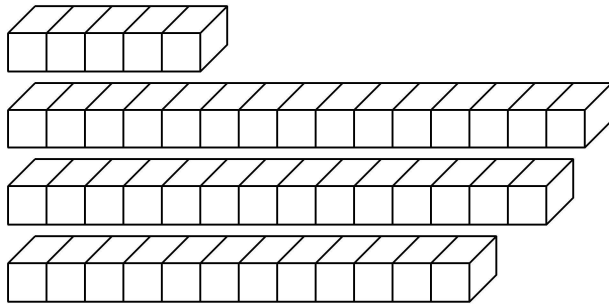
Да се заокружи редниот број (1,2,3,4,5,6 или 7) на позицијата на која се наоѓа заокруженото животно?



 1 2 3 4 5 6 7

8) 10 поени/\_\_\_

Да се запише колку коцки е должината на целата фигура. Да се одговори на прашањата:

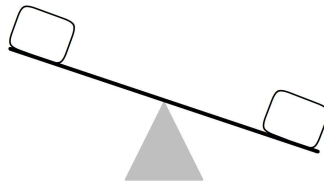


Најдолгата фигура е долга \_\_\_\_\_ коцки.

Најкратката (најкусата) фигура е долга \_\_\_\_\_ коцки.

9) 10 поени/\_\_\_

Да се одреди бројот на предметот кој е потежок. Каде да се постави на вагата?



10) 10 поени/ \_\_\_\_\_

Да се подредат предметите според нивната маса:  
"од најтежок кон најлесен".



3



2



1

Најтешкиот предмет е со број \_\_\_\_\_

Полесниот предмет е со број \_\_\_\_\_

Најлесниот предмет е со број \_\_\_\_\_

ТЕСТОВИ-3/ 1-одд. Теми1: Местоположба  
РЕШЕНИЈА:

## ПРОБЛЕМ

- 1 ANS:  
Точно, ✓ : Кучето е пред желката.  
Неточно, ✗ : Кучето се наоѓа над чајникот.

PTS: 10

- 2 ANS:  
а) Детето во количка е ПОД дрвото.  
б) Кучето е ПОД дрвото.

PTS: 10





















- 3 ANS:  
Точно, ✓ : Сендвичот се наоѓа над сите предмети.  
Неточно, ✗ : Пеперутката се наоѓа во садот за готвење.

PTS: 10

- 4 ANS:  
Точно, ✓ : Шишето со вода се наоѓа во третиот вагон.  
Неточно, ✗ : Пеперутката се наоѓа во третиот вагон.

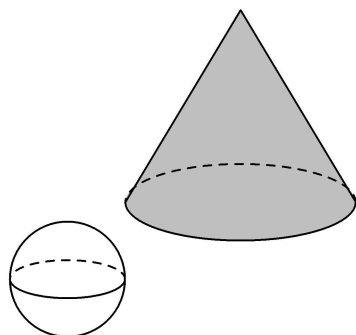
PTS: 10

5) ANS:

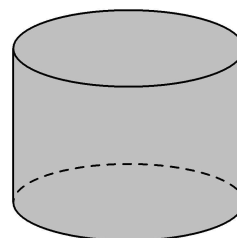
а)	Под		е		×
б)	Над		е		✓
в)	Над		е		×
г)	Над		е		×
д)	Под		е		✓
ѓ)	Над		е		×
е)	Под		е		×
ж)	Над		е		✓
з)	Под		е		×
с)	Под		е		✓

PTS: 10

6) ANS:




а) ПРЕД



б) ПОД

PTS: 10

7) ANS:




PTS: 10

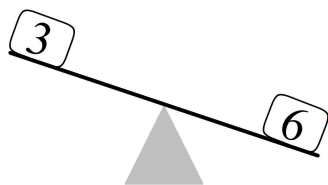
8) ANS:

Најдолгата фигура е долга 15 коцки.  
 Најкратката фигура е долга 5 коцки.

PTS: 10

9 ANS:

Предметот со поголема маса е со број 6 - на вагата долу .



PTS: 10

10 ANS:

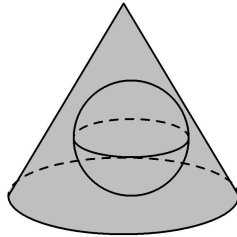
Подредени од најтежок кон најлесен, се со броевите: 2, 3, 1

PTS: 10

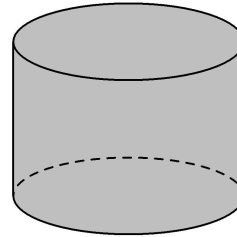
ТЕСТОВИ-3/ 1-одд. Теми1: Местоположба

1) 10 поени/\_\_\_\_

Да се искористат два од зборовите ВО, НА, НАД, ПОД, ДЕСНО, ЛЕВО, ПРЕД, ЗАД за да се одреди точното тврдење:



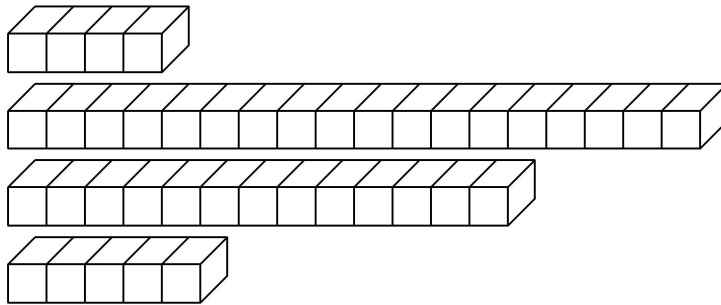
а) Топката се наоѓа \_\_\_\_\_ пирамидата.



б) Топката се наоѓа \_\_\_\_\_ цилиндерот.

2) 10 поени/\_\_\_\_

Да се запише колку коцки е должината на целата фигура. Да се одговори на прашањата:




Најдолгата фигура е долга \_\_\_\_\_ коцки.

Најкратката (најкусата) фигура е долга \_\_\_\_\_ коцки.

3 10 поени/\_\_\_

Да се подредат предметите според нивната маса:  
"од најтежок кон најлесен".



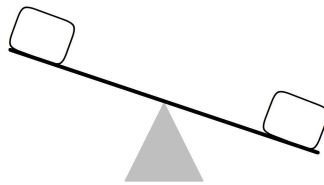
Најтешкиот предмет е со број \_\_\_\_\_

Полесниот предмет е со број \_\_\_\_\_

Најлесниот предмет е со број \_\_\_\_\_


4 10 поени/\_\_\_

Да се одреди бројот на предметот кој е потежок. Каде да се постави на вагата?



5) 10 поени/\_\_\_

Да се дополнат речениците со еден од зборовите ВО, НА, ДО, ПРЕД, ЗАД, НАД, ПОД.



- а) Чадорот е \_\_\_\_\_ дрвото.  
б) Цвеќето е \_\_\_\_\_ столчето.

6) 10 поени/\_\_\_


Со знакот ✓ да се означи точното тврдење а со знакот ✗ да се означи НЕточното тврдење.



- Сендвичот се наоѓа под чајникот.   
Сендвичот се наоѓа над чајникот.

7 10 поени/\_\_\_

Со знакот ✓ да се означат точното тврдење а со знакот ✗ да се означат НЕточното тврдење. Да се внимава на зборовите ВО, НА, ПРЕД, ЗАД, НАД, ПОД.




Кучето е пред желката.

Жабата се наоѓа на комодата.

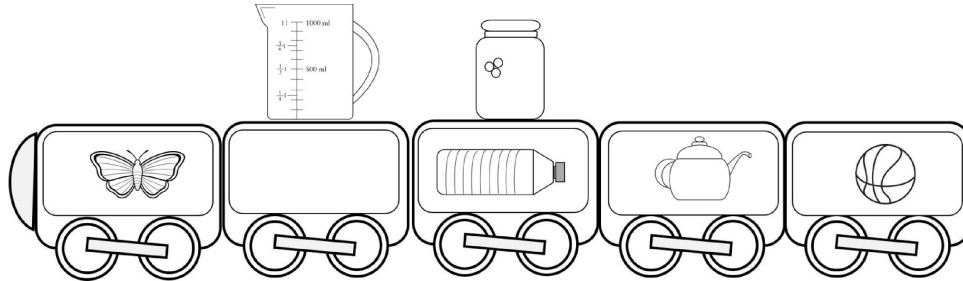
8 10 поени/\_\_\_

Да се заокружи редниот број (1,2,3,4,5,6 или 7) на позицијата на која се наоѓа заокруженото животно?



9 10 поени/\_\_\_

Со знакот ✓ да се означат точното тврдење а со знакот × да се означат НЕточното тврдење. Да се внимава на зборовите ВО, НА, ПРЕД, ЗАД, НАД, ПОД.







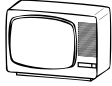



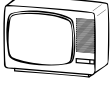








Топката се наоѓа во возот.



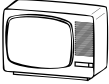

Теглата се наоѓа во вториот вагон.

10) 10 поени/\_\_\_

Да се одговори со знакот ✓ за точните тврдења а со знакот × за неточните.



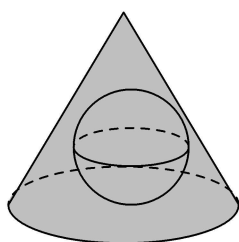
а)	Под		е		×
б)	Над		е		✓
в)	Над		е		×
г)	Над		е		×
д)	Под		е		✓
ѓ)	Над		е		×
е)	Под		е		×
ж)	Над		е		✓

з)	Под		е		×
с)	Под		е		✓

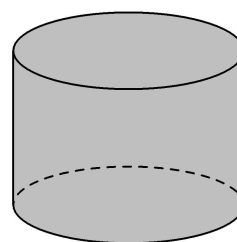
ТЕСТОВИ-3/ 1-одд. Теми1: Местоположба  
РЕШЕНИЈА:

## ПРОБЛЕМ

1 ANS:



а) ВО



б) ПОД

PTS: 10

2 ANS:

Најдолгата фигура е долга 18 коцки.  
Најкратката фигура е долга 4 коцки.


PTS: 10

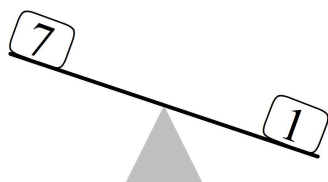
3 ANS:

Подредени од најтежок кон најлесен, се со броевите: 2, 3, 1

PTS: 10

4 ANS:

Предметот со поголема маса е со број 1 - на вагата долу  .



PTS: 10

- 5) ANS:  
 а) Чадорот е ДО дрвото.  
 б) Цвеќето е НА столчето.

PTS: 10

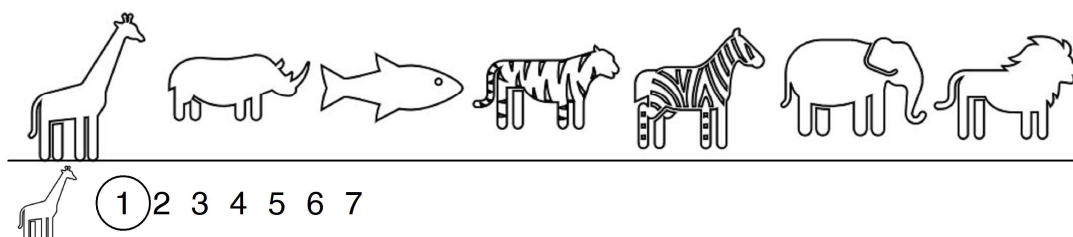
- 6) ANS:  
 Точно, ✓ : Сендвичот се наоѓа над чајникот.  
 Неточно, ✗ : Сендвичот се наоѓа под чајникот.

PTS: 10

- 7) ANS:  
 Точно, ✓ : Кучето е пред желката.  
 Неточно, ✗ : Жабата се наоѓа на комодата.

PTS: 10

- 8) ANS:




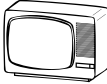



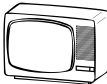








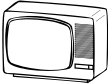

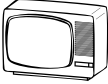



PTS: 10

- 9) ANS:  
 Точно, ✓ : Топката се наоѓа во возот.  
 Неточно, ✗ : Теглата се наоѓа во вториот вагон.

PTS: 10

10) ANS:

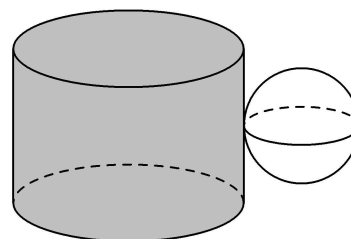
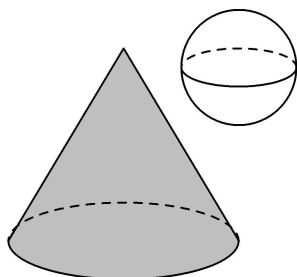
а)	Под		е		×
б)	Над		е		✓
в)	Над		е		×
г)	Над		е		×
д)	Под		е		✓
ѓ)	Над		е		×
е)	Под		е		×
ж)	Над		е		✓
з)	Под		е		×
с)	Под		е		✓

PTS: 10

ТЕСТОВИ-3/ 1-одд. Теми1: Местоположба

1) 10 поени/\_\_\_\_

Да се искористат два од зборовите ВО, НА, НАД, ПОД, ДЕСНО, ЛЕВО, ПРЕД, ЗАД за да се одреди точното тврдење:



а) Топката се наоѓа \_\_\_\_\_ пирамидата.

б) Топката се наоѓа \_\_\_\_\_ цилиндерот.

2) 10 поени/\_\_\_\_

Да се подредат предметите според нивната маса: "од најтежок кон најлесен".



2



3



1

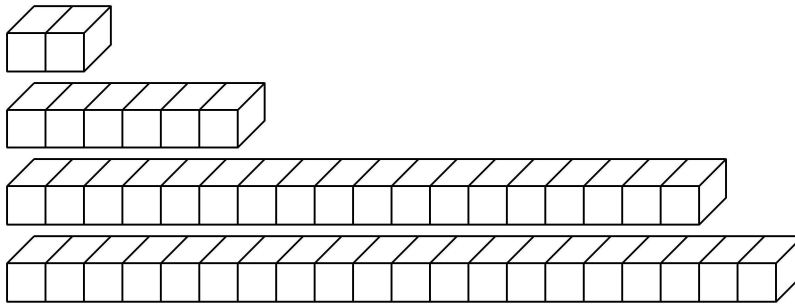
Најтешкиот предмет е со број \_\_\_\_\_

Полесниот предмет е со број \_\_\_\_\_

Најлесниот предмет е со број \_\_\_\_\_

3 10 поени/\_\_\_

Да се запише колку коцки е должината на целата фигура. Да се одговори на прашањата:

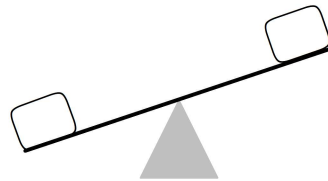


Најдолгата фигура е долга \_\_\_\_\_ коцки.

Најкратката (најкусата) фигура е долга \_\_\_\_\_ коцки.


4 10 поени/\_\_\_

Да се одреди бројот на предметот кој е полесен. Каде да се постави на вагата?



5) 10 поени/\_\_\_

Да се дополнат речениците со еден од зборовите ВО, НА, ДО, ПРЕД, ЗАД, НАД, ПОД.




а) Столчето е \_\_\_\_\_ чадорот.

б) Птицата е \_\_\_\_\_ дрвото.

6) 10 поени/\_\_\_

Со знакот ✓ да се означи точното тврдење а со знакот ✗ да се означи НЕточното тврдење. Да се внимава на зборовите ВО, НА, ПРЕД, ЗАД, НАД, ПОД.

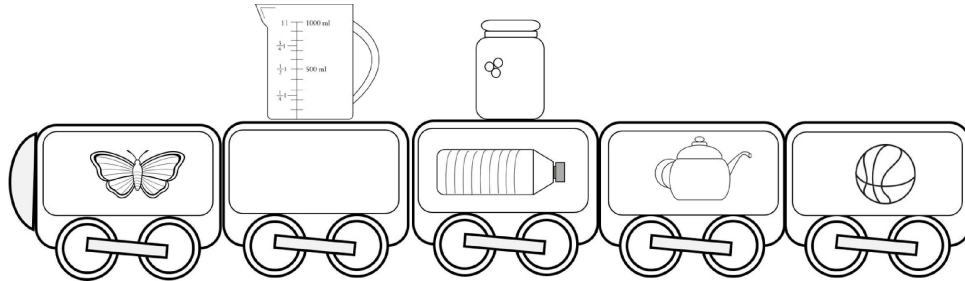


Желката се наоѓа на комодата.

Жабата е пред желката.

7) 10 поени/\_\_\_

Со знакот ✓ да се означи точното тврдење а со знакот ✗ да се означи НЕточното тврдење. Да се внимава на зборовите ВО, НА, ПРЕД, ЗАД, НАД, ПОД.



Пеперутката се наоѓа во возот.   
Пеперутката се наоѓа над возот.

8) 10 поени/\_\_\_


Со знакот ✓ да се означи точното тврдење а со знакот ✗ да се означи НЕточното тврдење.



Чајникот се наоѓа над теглата.   
Чајникот се наоѓа под теглата.


9 10 поени/\_\_\_

















Да се заокружи редниот број (1,2,3,4,5,6 или 7) на позицијата на која се наоѓа заокруженото животно?







10) 10 поени/\_\_\_

Да се одговори со знакот ✓ за точните тврдења а со знакот × за неточните.



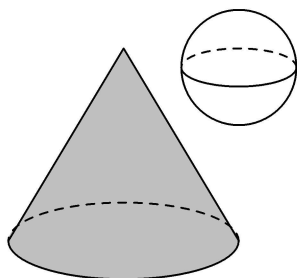
а)	Под		е		×
б)	Над		е		✓
в)	Над		е		×
г)	Над		е		×
д)	Под		е		✓
ѓ)	Над		е		×
е)	Под		е		×
ж)	Над		е		✓

з)	Под		е		×
с)	Под		е		✓

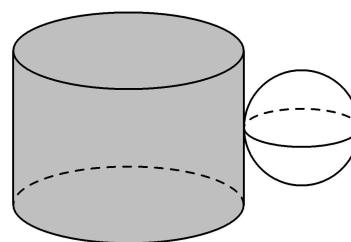
ТЕСТОВИ-3/ 1-одд. Теми1: Местоположба  
РЕШЕНИЈА:

ПРОБЛЕМ

1 ANS:



а) ЗАД



б) ДЕСНО ОД

PTS: 10

2 ANS:

Подредени од најтежок кон најлесен, се со броевите: 1, 2,3

PTS: 10

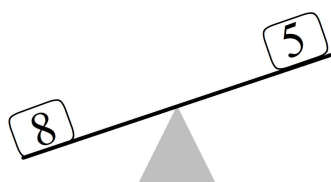
3 ANS:

Најдолгата фигура е долга 20 коцки.  
Најкратката фигура е долга 2 коцки.

PTS: 10

4 ANS:

Предметот со помала маса е со број 5- на вагата горе 🕶️ .



PTS: 10

- 5) ANS:  
 а) Столчето е ПОД чадорот.  
 б) Птицата е НА дрвото.

PTS: 10

- 6) ANS:  
 Точно, ✓ : Жабата е пред желката.  
 Неточно, ✗ : Желката се наоѓа на комодата.

PTS: 10


- 7) ANS:  
 Точно, ✓ : Пеперутката се наоѓа во возот.  
 Неточно, ✗ : Пеперутката се наоѓа над возот.

PTS: 10

- 8) ANS:  
 Точно, ✓ : Чајникот се наоѓа над теглата.  
 Неточно, ✗ : Чајникот се наоѓа под теглата.





















PTS: 10

- 9) ANS:



PTS: 10

10) ANS:

а)	Под		е		×
б)	Над		е		✓
в)	Над		е		×
г)	Над		е		×
д)	Под		е		✓
ѓ)	Над		е		×
е)	Под		е		×
ж)	Над		е		✓
з)	Под		е		×
с)	Под		е		✓

PTS: 10