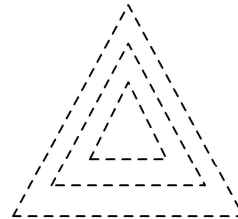
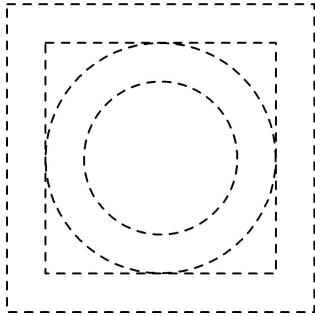


ТЕСТОВИ2 - 1одд / Тема2: 2Д Форми

1. 10 поени/___

Да се доцртаат со рака 2Д фигурите, да се избројат и да се одговори на поставените прашања.



На

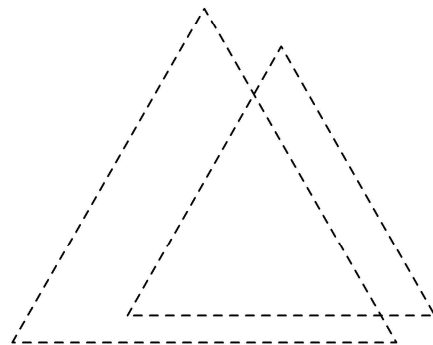
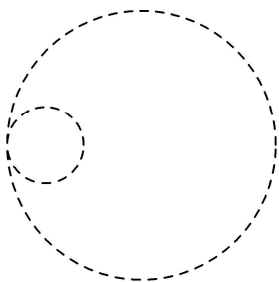
цртежот има _____ кругови.

На цртежот има _____ квадрати.

На цртежот има _____ триаголници.

2. 10 поени/___

Да се доцртаат со рака 2Д фигурите, да се избројат и да се одговори на поставените прашања.



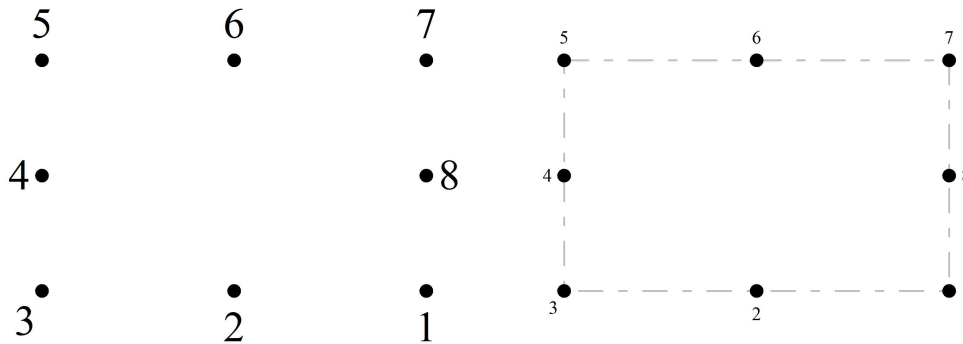
На

цртежот има _____ кругови.

На цртежот има _____ триаголници.

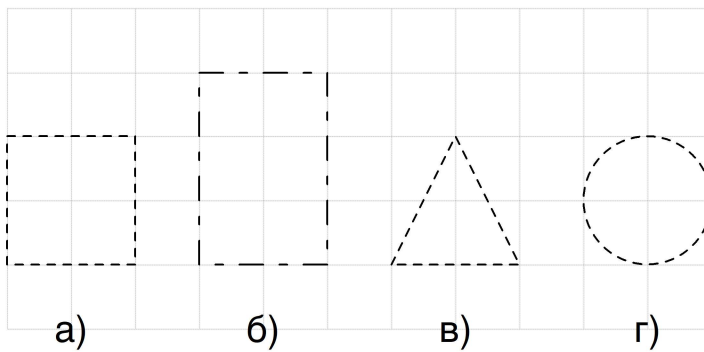
3. 10 поени/___

Со слободна рака, или со линијар, да се поврзат броевите по редослед и да се нацртаат затворените линии.



4. 10 поени/___

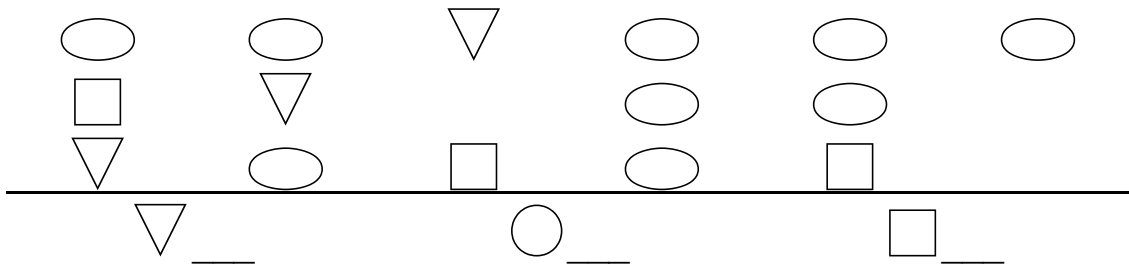
Да се доцртаат и именуваат 2Д фигурите.



- а) _____
- б) _____
- в) _____
- г) _____

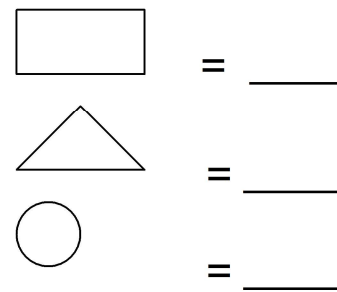
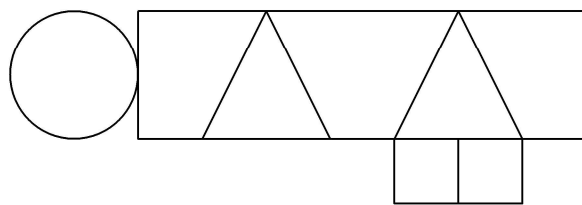
5. 10 поени/___

Да се избројат и запишат по колку ги има од секоја фигура.



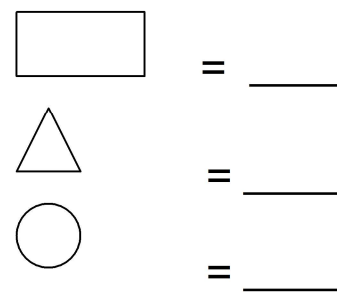

6. 10 поени/___

Да се одреди бројот на 2Д формите во фигурата:



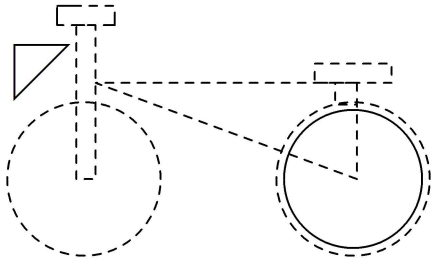
7. 10 поени/___

Да се одреди бројот на 2Д формите во фигурата:



8. 10 поени/___

Да се доцрта и да се одговори на прашањата:



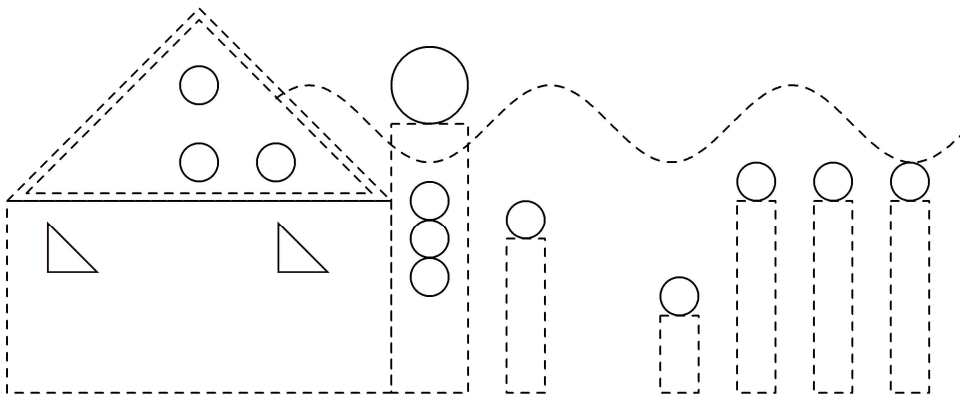
Број на правоаголници = ___

Број на триаголници = ___

Број на кругчиња = ___

9. 10 поени/___

Доцртај, изброј и одговори на прашањата.



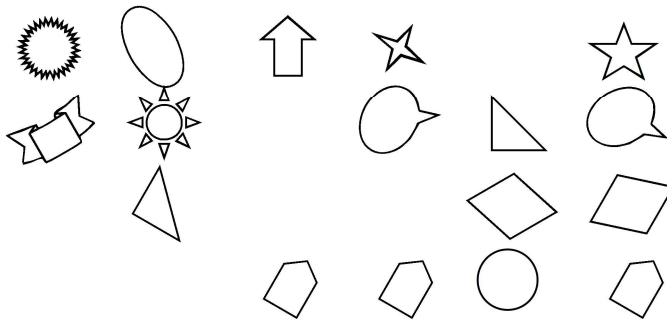
Број на правоаголници = ___








Број на триаголници = ___

Број на кругчиња = ___

10. 10 поени/___

Да се запишат одговорите на прашањата.



2Д форма - име	На цртежот има форми?
 - триаголници	
 - четириаголници	
 - ѕвезда	1
 - сонце	1
 - петаголници	
 - облаци	
 - неправилни форми	

ТЕСТОВИ2 - 1одд / Тема2: 2Д Форми
РЕШЕНИЈА:

1. ANS:
Кругови = 2, Квадрати = 2, Триаголници = 3

PTS: 10

2. ANS:
Кругови = 2, Триаголници = 3

PTS: 10

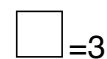
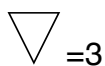
3. ANS:
Фигурата е четириаголник - правоаголник.

PTS: 10

4. ANS:
а) квадрат
б) правоаголник
в) триаголник
г) круг

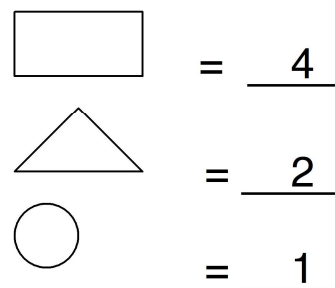
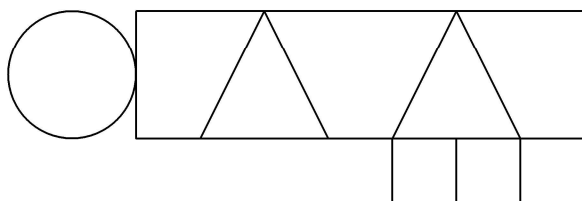
PTS: 10

5. ANS:



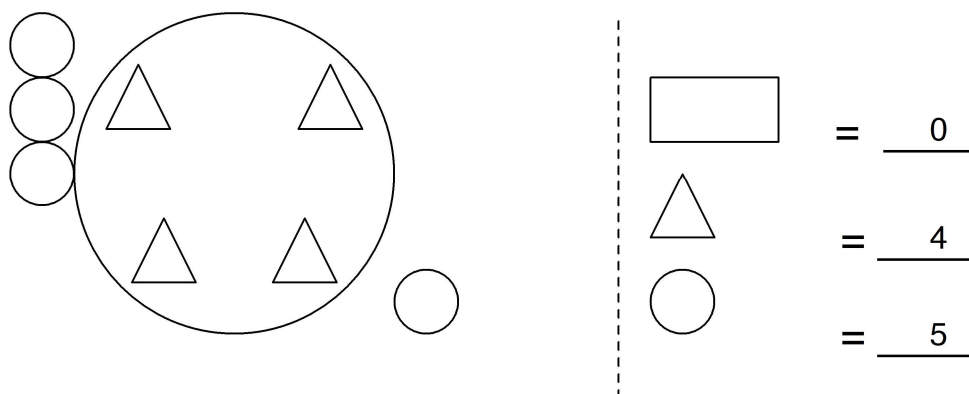
PTS: 10

6. ANS:



PTS: 10

7. ANS:



PTS: 10

8. ANS:

Број на правоаголници = 4
 Број на триаголници = 2
 Број на кругчиња = 3

PTS: 10

9. ANS:

Број на правоаголници = 7
 Број на триаголници = 4
 Број на кругчиња = 12

PTS: 10

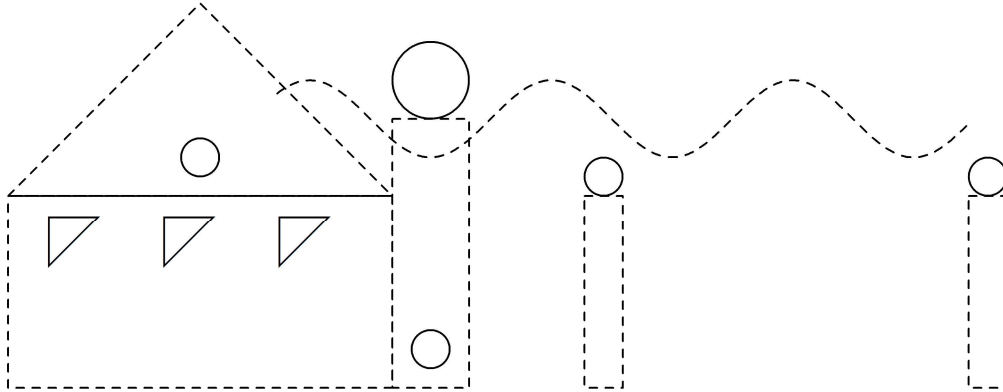
10. ANS:

2Д форма - име	На цртежот има ___?___ форми
- триаголници	2
- четириаголници	2
- звезда	1
- сонце	1
- петаголници	3
- облаци	2
- неправилни форми	1

PTS: 10

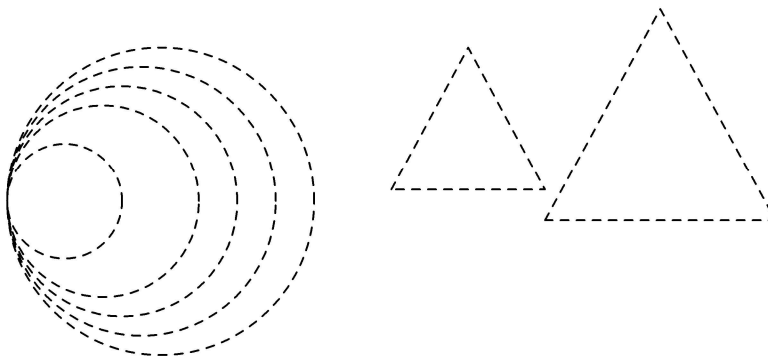
ТЕСТОВИ2 - 1одд / Тема2: 2Д Форми

1. 10 поени/____
Доцртај, изброј и одговори на прашањата.



Број на правоаголници = ____
Број на триаголници = ____
Број на кругчиња = ____

2. 10 поени/____
Да се доцртаат со рака 2Д фигурите, да се избројат и да се одговори на поставените прашања.


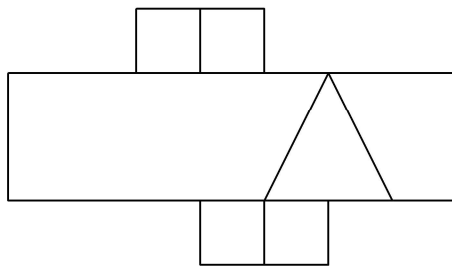


цртежот има ____ кругови.
На цртежот има ____ триаголници.

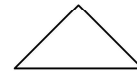
На

5. 10 поени/___

Да се одреди бројот на 2Д формите во фигурата:



= _____



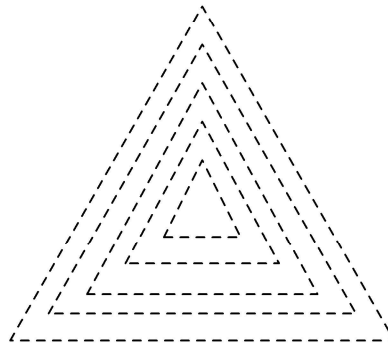
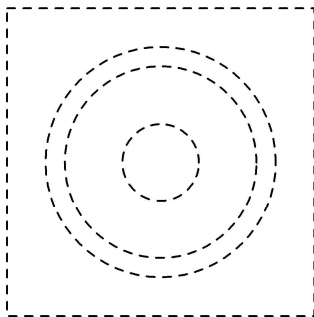
= _____



= _____

6. 10 поени/___

Да се доцртаат со рака 2Д фигурите, да се избројат и да се одговори на поставените прашања.



На

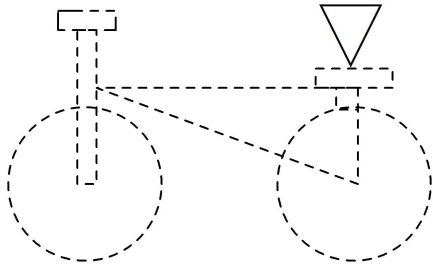
цртежот има _____ кругови.

На цртежот има _____ квадрати.

На цртежот има _____ триаголници.

7. 10 поени/___

Да се доцрта и да се одговори на прашањата:



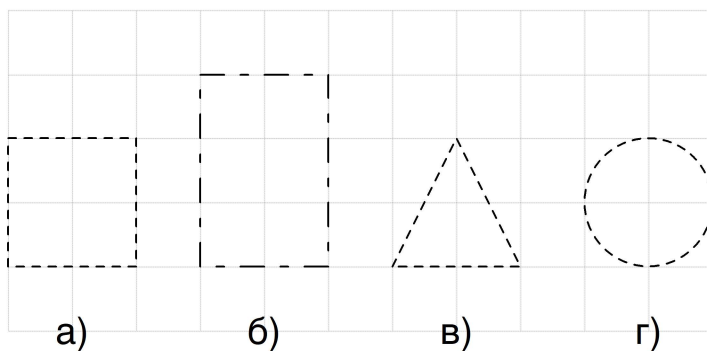
Број на правоаголници = ___

Број на триаголници = ___

Број на кругчиња = ___

8. 10 поени/___

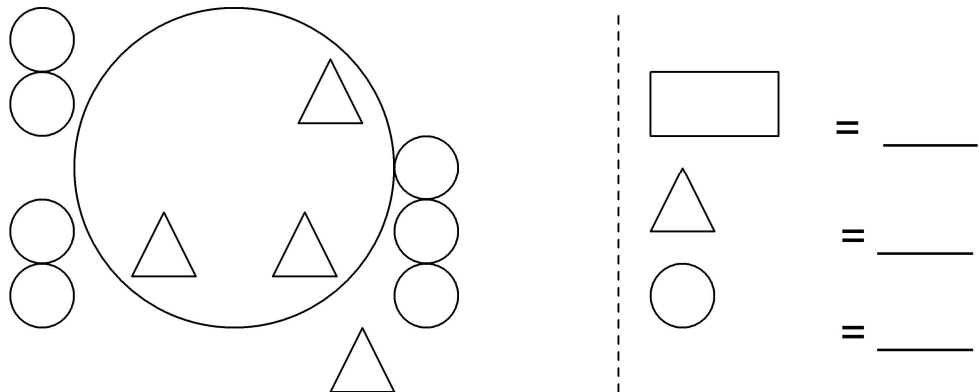
Да се доцртаат и именуваат 2Д фигурите.



- а) _____
- б) _____
- в) _____
- г) _____

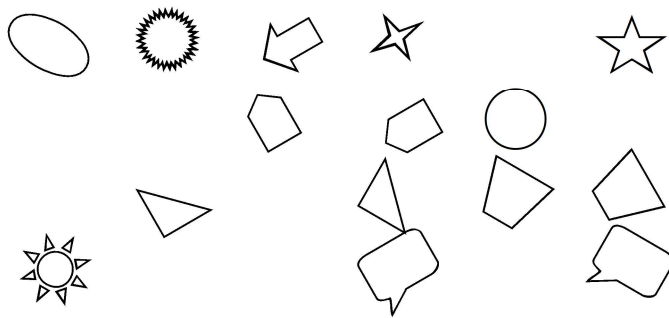
9. 10 поени/___

Да се одреди бројот на 2Д формите во фигурата:



10. 10 поени/___

Да се запишат одговорите на прашањата.



2Д форма - име	На цртежот има форми?
- триаголници	
- четириаголници	
- ѕвезда	1
- сонце	1
- петаголници	
- облаци	
- неправилни форми	

ТЕСТОВИ2 - 1 одд / Тема2: 2Д Форми
РЕШЕНИЈА:

1. ANS:

Број на правоаголници = 4
Број на триаголници = 4
Број на кругчиња = 5

PTS: 10

2. ANS:

Кругови = 5, Триаголници = 2

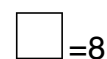
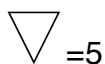
PTS: 10

3. ANS:

Фигурата е четириаголник - правоаголник.

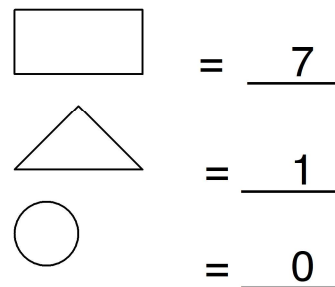
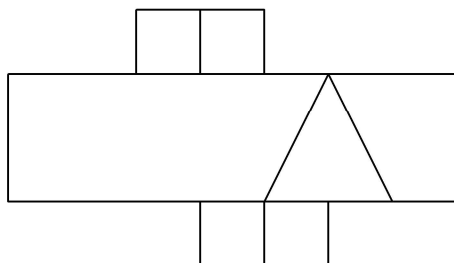
PTS: 10

4. ANS:



PTS: 10

5. ANS:



PTS: 10

6. ANS:

Кругови = 3, Квадрати = 1, Триаголници = 5

PTS: 10

7. ANS:

Број на правоаголници = 4
 Број на триаголници = 2
 Број на кругчиња = 2

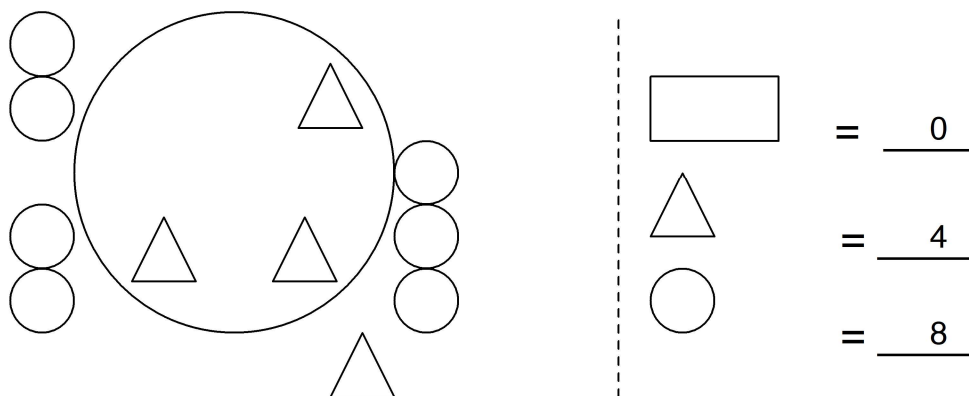
PTS: 10

8. ANS:

а) квадрат
 б) правоаголник
 в) триаголник
 г) круг








PTS: 10

9. ANS:



PTS: 10

10. ANS:

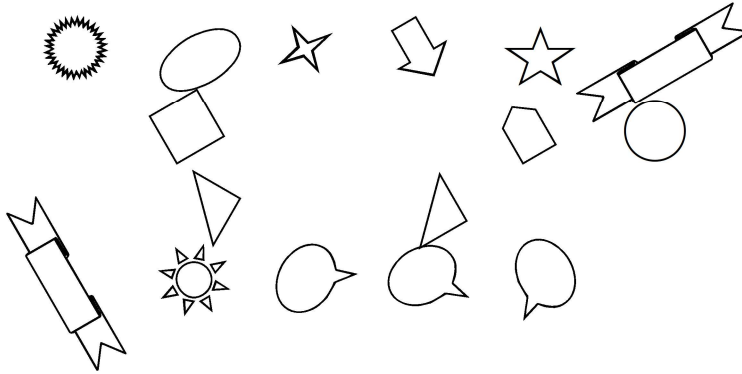
2Д форма - име	На цртежот има ___?___ форми
 - триаголници	2
 - четириаголници	2
 - звезда	1
 - сонце	1
 - петаголници	2
 - облаци	2
 - неправилни форми	0

PTS: 10

ТЕСТОВИ2 - 1одд / Тема2: 2Д Форми

1. 10 поени/___

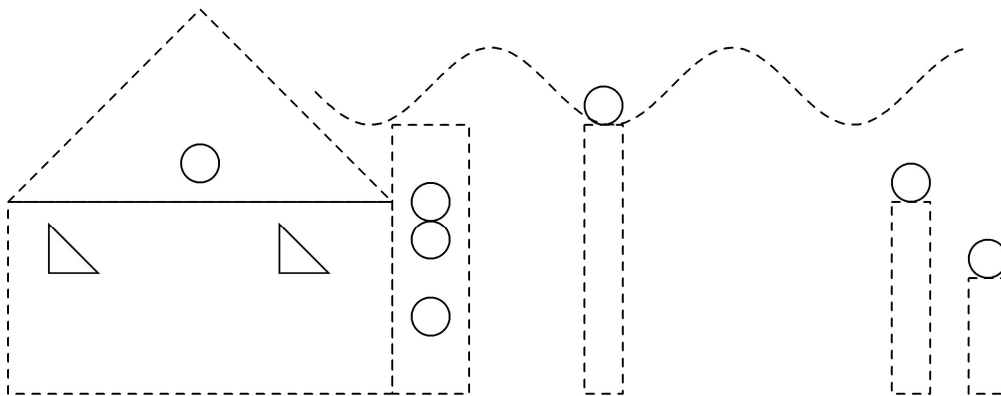
Да се запишат одговорите на прашањата.



2Д форма - име	На цртежот има форми?
 - триаголници	
 - четириаголници	
 - ѕвезда	1
 - сонце	1
 - петаголници	
 - облаци	
 - неправилни форми	

2. 10 поени/___

Доцртај, изброј и одговори на прашањата.




Број на правоаголници = ___

Број на триаголници = ___

Број на кругчиња = ___

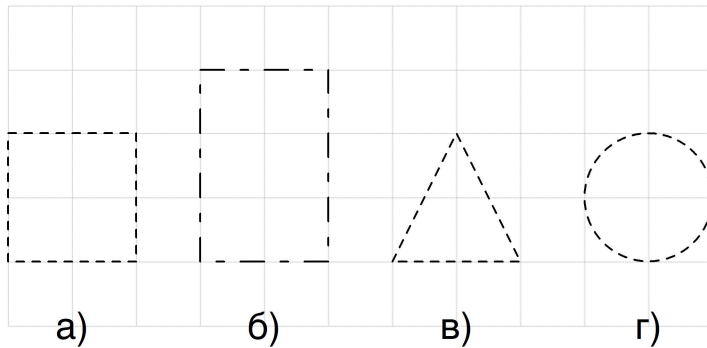
3. 10 поени/___

Со слободна рака, или со линијар, да се поврзат броевите по редослед и да се нацртаат затворените линии.



4. 10 поени/___


Да се доцртаат и именуваат 2Д фигурите.



- a) _____
- б) _____
- в) _____
- г) _____

5. 10 поени/___

Да се доцртаат со рака 2Д фигурите, да се избројат и да се одговори на поставените прашања.

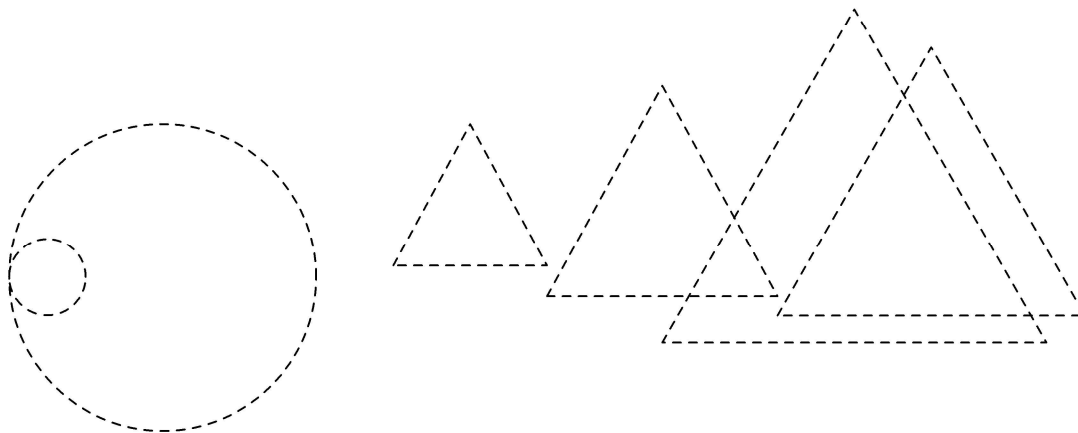


На

- цртежот има _____ кругови.
- На цртежот има _____ квадрати.
- На цртежот има _____ триаголници.

6. 10 поени/___

Да се доцртаат со рака 2Д фигурите, да се избројат и да се одговори на поставените прашања.



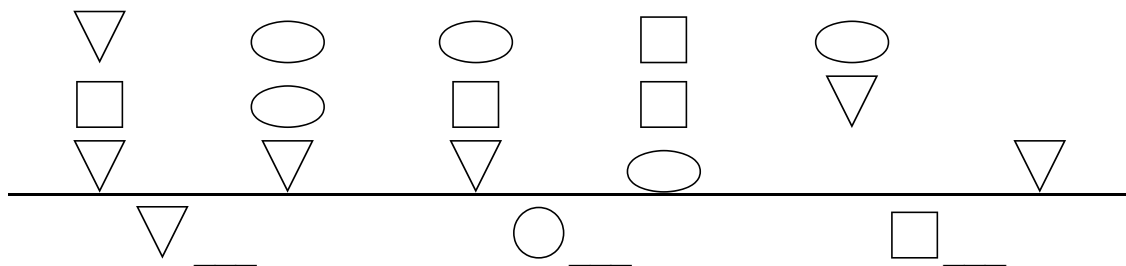
На

цртежот има _____ кругови.

На цртежот има _____ триаголници.

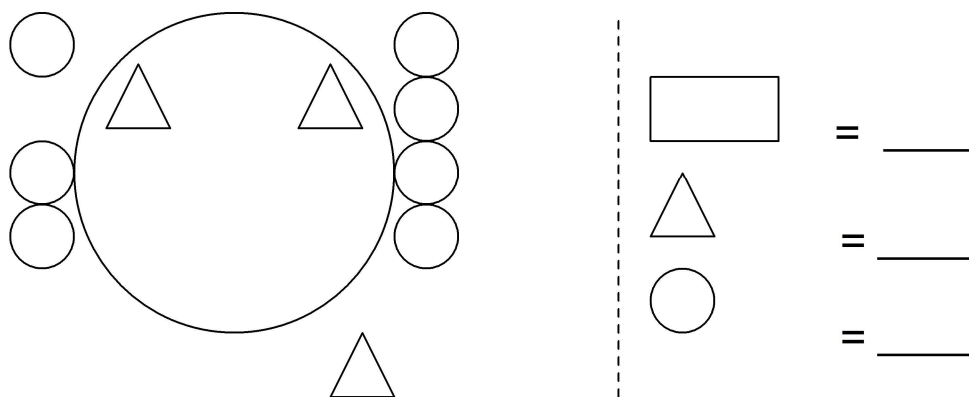
7. 10 поени/___

Да се избројат и запишат по колку ги има од секоја фигура.




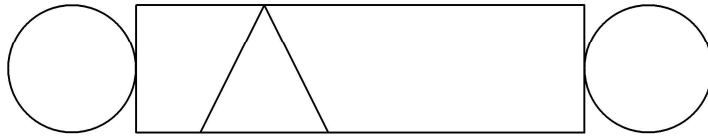
8. 10 поени/___

Да се одреди бројот на 2Д формите во фигурата:

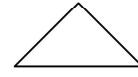


9. 10 поени/___

Да се одреди бројот на 2Д формите во фигурата:



= ___



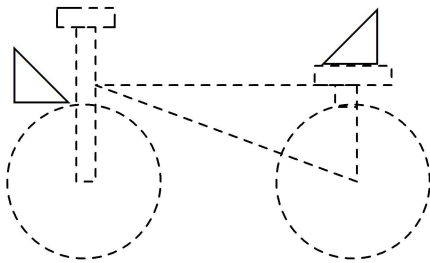
= ___



= ___

10. 10 поени/___

Да се доцрта и да се одговори на прашањата:










Број на правоаголници = ___

Број на триаголници = ___

Број на кругчиња = ___

ТЕСТОВИ2 - 1 одд / Тема2: 2Д Форми
РЕШЕНИЈА:

1. ANS:

2Д форма - име	На цртежот има ___?___ форми
 - триаголници	2
 - четириаголници	1
 - звезда	1
 - сонце	1
 - петаголници	1
 - облаци	3
 - неправилни форми	2

PTS: 10

2. ANS:

Број на правоаголници = 5

Број на триаголници = 3

Број на кругчиња = 7

PTS: 10

3. ANS:

Фигурата е четириаголник - правоаголник.

PTS: 10

4. ANS:

а) квадрат

б) правоаголник

в) триаголник

г) круг

PTS: 10

5. ANS:

Кругови = 1, Квадрати = 3, Триаголници = 1

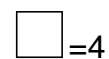
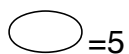
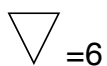
PTS: 10

6. ANS:

Кругови = 2, Триаголници = 4


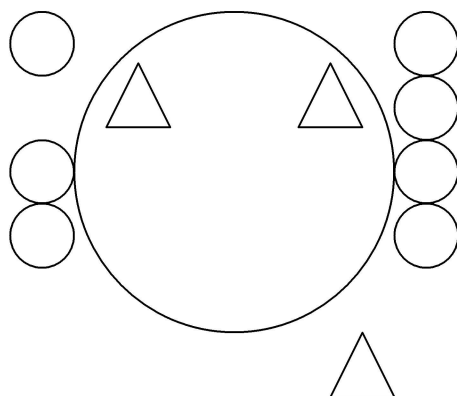
PTS: 10

7. ANS:



PTS: 10

8. ANS:



$$= \underline{\quad 0 \quad}$$



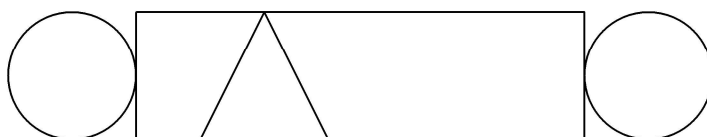
$$= \underline{\quad 3 \quad}$$



$$= \underline{\quad 8 \quad}$$

PTS: 10

9. ANS:



$$= \underline{\quad 1 \quad}$$



$$= \underline{\quad 1 \quad}$$



$$= \underline{\quad 2 \quad}$$

PTS: 10

10. ANS:

Број на правоаголници = 4

Број на триаголници = 3

Број на кругчиња = 2

PTS: 10