




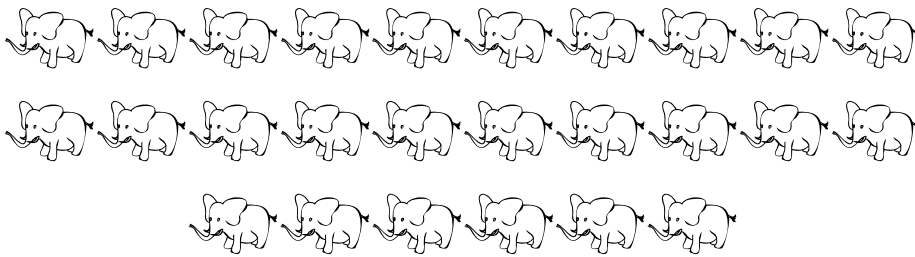


2. Да се избројат фигурите. Да се поврзат точките и да се научи бројот.
Единаесет = 11.



37. Да се избројат фигурите. Да се поврзат точките и да се научи бројот.
Дваесет и шест = 26.





26 26 26

26 26 26


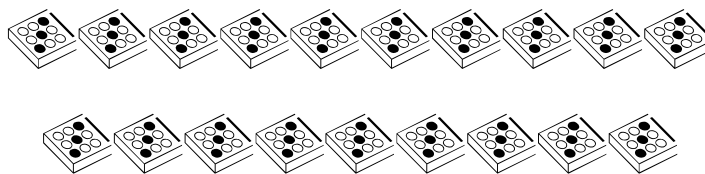
26 26 26

26 26 26



70. Да се избројат фигурите. Да се поврзат точките и да се научи бројот. Уште четирипати да се напише истиот број.



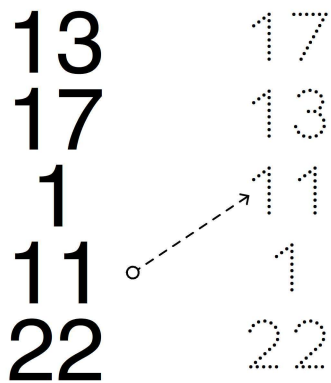
71. Да се избројат фигурите. Да се поврзат точките и да се научи бројот. Уште четирипати да се напише истиот број.




72. Да се избројат фигурите. Да се поврзат точките и да се научи бројот. Уште четирипати да се напише истиот број.



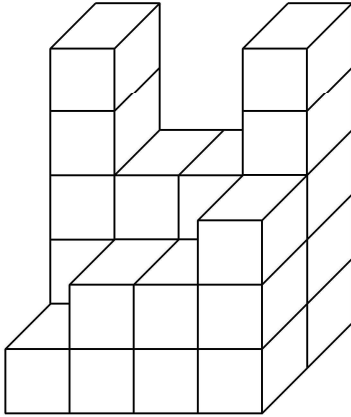
85. Да се поврзат еднаквите броеви.



86. Да се поврзат еднаквите броеви.

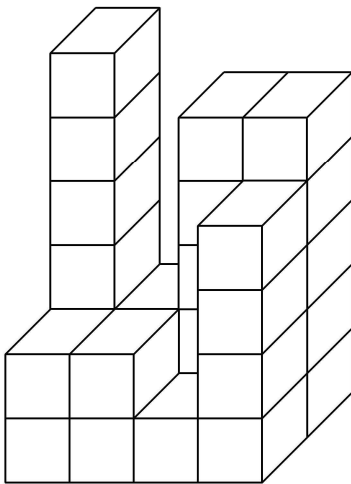


127. Има точно _____ коцки.



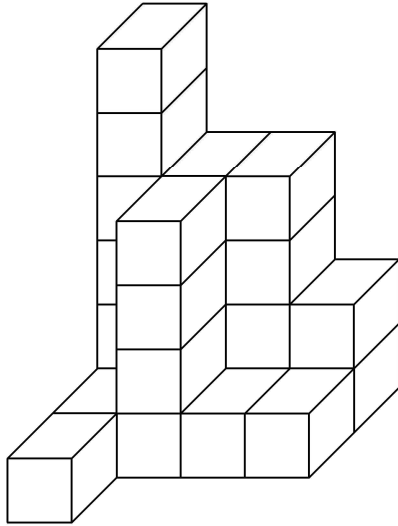
Бројот на коцките е _____.

128. Има точно _____ коцки.



Бројот на коцките е _____.


131. Има точно _____ коцки.



Бројот на коцките е _____.

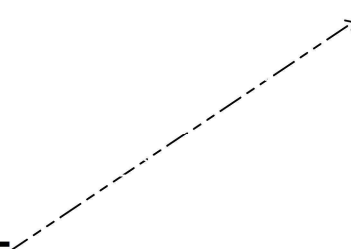
145. Да се поврзат зборовите со броевите.

Дваесет и три	28
Дваесет и осум	23
Дваесет и пет	4
Четири	25
Осум	8



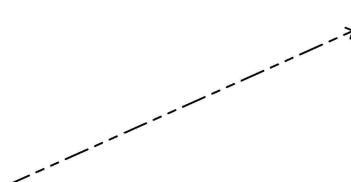
146. Да се поврзат зборовите со броевите.

Дваесет и еден	21
Тринаесет	26
Три	13
Деветнаесет	19
Дваесет и шест	3



147. Да се поврзат зборовите со броевите.

Еден	14
Дваесет и пет	19
Четиринаесет	25
Шест	6
Деветнаесет	1



154. Да се воочи правилото па да се пополнат празните места.

				14
15	16	17	18	19
20			23	
	26	27	28	

155. Да се воочи правилото па да се пополнат празните места.

		7		9
10				
15	16	17		19
	21		23	

156. Да се воочи правилото па да се пополнат празните места.

	6			9
10	11	12		
		17	18	19
20				24