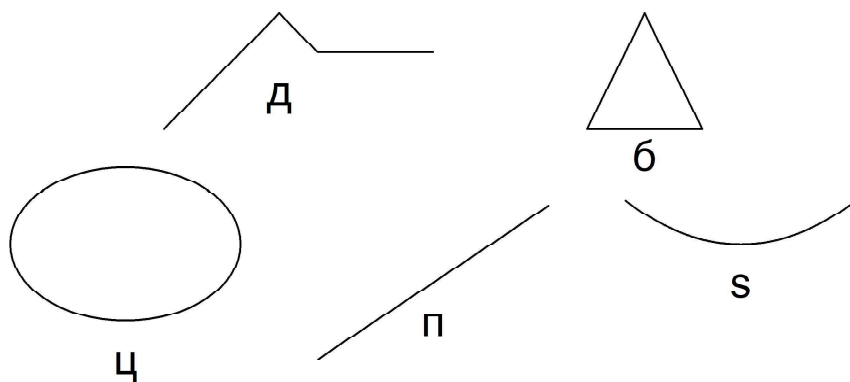


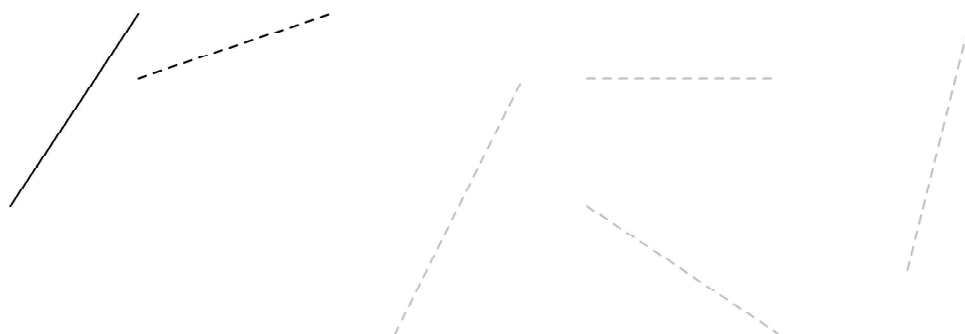
1 одд. Тема 2: 2Д - Форми

1. Дадени се линиите. Да се пополнат празните линии.

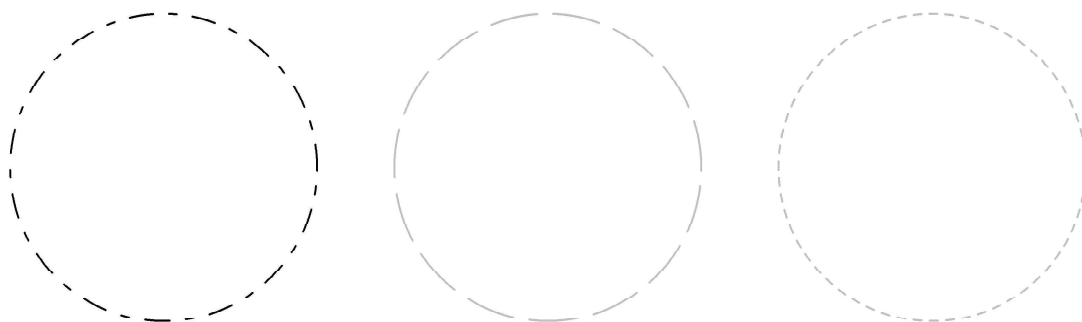


- а) Права е линијата е кај буквата \_\_\_\_\_.
- б) Крива отворена е линијата е кај \_\_\_\_\_.
- в) Крива затворена е линијата кај \_\_\_\_\_.
- г) Искршена отворена е линијата е кај \_\_\_\_\_.
- д) Искршена затворена е линијата кај \_\_\_\_\_.


2. Со слободна рака, да се нацртаат правите линии.



10. Со слободна рака, да се нацртаат затворените криви - кругови.



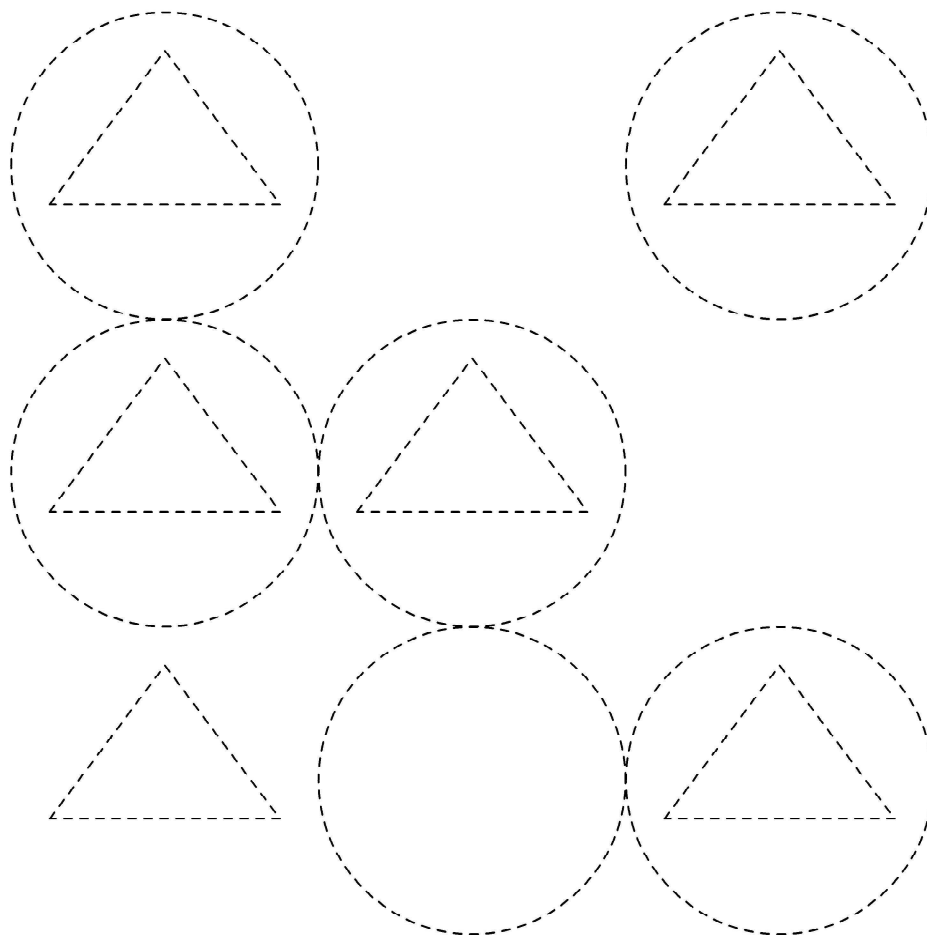
11. Со слободна рака, да се нацртаат затворените криви - кругови.



цртежот има \_\_\_\_\_ кругови.

На

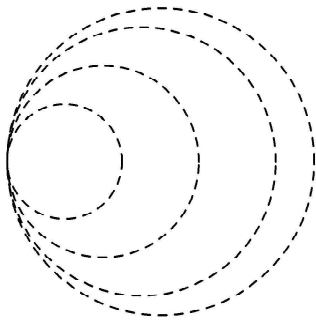
21. Да се доцртаат со рака 2Д фигурите, да се избројат и да се одговори на поставените прашања.



На цртежот има \_\_\_\_\_ кругови.

На цртежот има \_\_\_\_\_ триаголници.

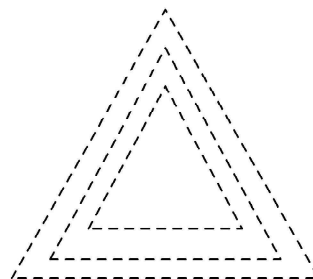
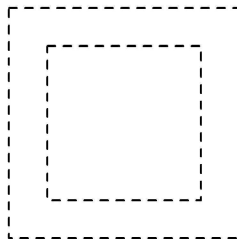
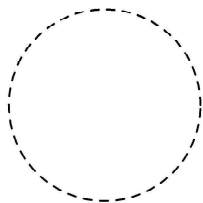
32. Да се доцртаат со рака 2Д фигурите, да се избројат и да се одговори на поставените прашања.



На

цртежот има \_\_\_\_\_ кругови.  
На цртежот има \_\_\_\_\_ квадрати.

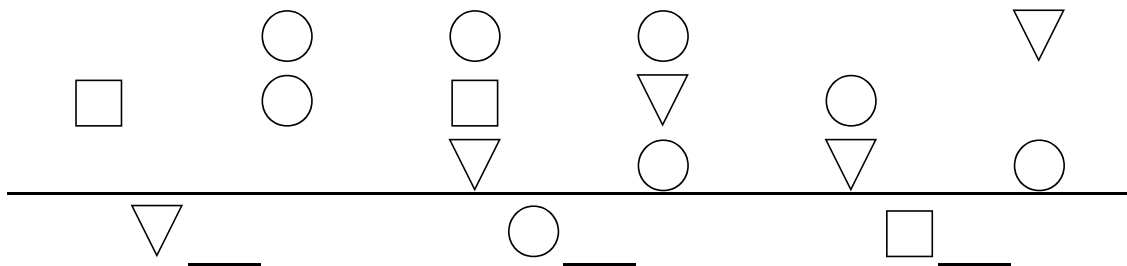
33. Да се доцртаат со рака 2Д фигурите, да се избројат и да се одговори на поставените прашања.



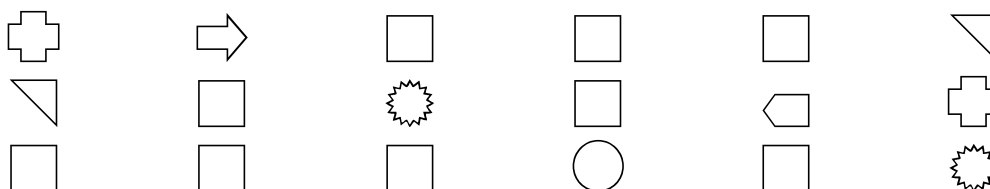
На

цртежот има \_\_\_\_\_ кругови.  
На цртежот има \_\_\_\_\_ квадрати.  
На цртежот има \_\_\_\_\_ триаголници.

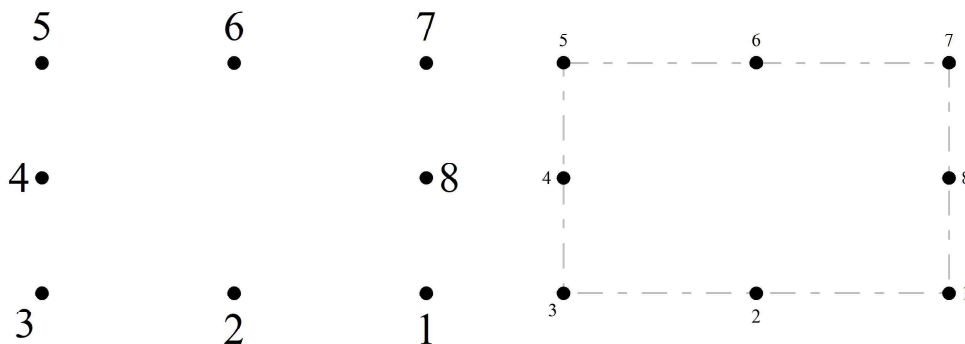
39. Да се избројат и запишат по колку ги има од секоја фигура.




40. Да се избројат квадратчињата.














41. Со слободна рака, или со линијар, да се поврзат броевите по редослед и да се нацртаат затворените линии.


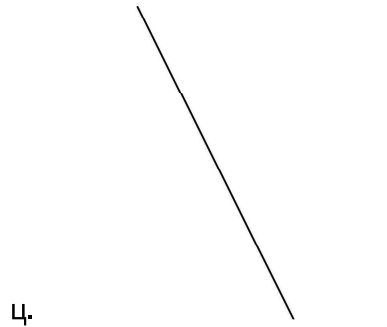
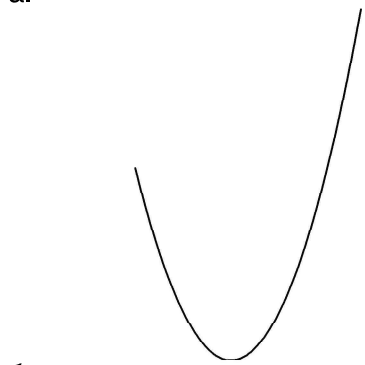
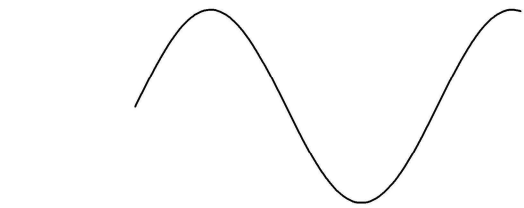


65. Да се запишат одговорите на прашањата.



2Д форма - име	На цртежот има форми?
 - триаголници	
 - четириаголници	
 - ѕвезда	1
 - сонце	1
 - петаголници	
 - облаци	
 - неправилни форма	
 има повеќе од 	
 има повеќе од 	


77. Да се одредат кривите линии.




1 одд. Тема 2: 2Д - Форми  
Ансњер Сецтион

ПРОБЛЕМ


1. а) Права е линијата е кај буквата п.  
б) Крива отворена е линијата е кај буквата s.  
в) Крива затворена е линијата кај буквата ц.  
г) Искршена отворена е линијата е кај д.  
д) Искршена затворена е линијата кај буквата б.
2. Цртање на прави линии.
3. Цртање на отворени криви линии.
4. Цртање на отворени криви линии.
5. Цртање на отворени криви линии.
6. Цртање на отворени криви линии.
7. Цртање на отворени криви линии.
8. Цртање на отворени криви линии.
9. Цртање на отворени криви линии.
10. Цртање на затворени криви линии - кругови
11. Кругови = 4,
12. Кругови = 4,
13. Кругови = 8,
14. Кругови = 7
15. Цртање на затворени криви линии - елипси
16. Цртање на затворени линии - рамностран триаголник.
17. Цртање на затворени линии - лев правоаголен триаголник.
18. Цртање на затворени линии - десен правоаголен триаголник.
19. Цртање на затворени линии - десен правоаголен триаголник.
20. Цртање на затворени линии - лев правоаголен триаголник.
21. Кругови = 6,  
Триаголници = 6,
22. Кругови = 2, Триаголници = 3
23. Цртање на рамностран триаголник.
24. Цртање на правоаголен триаголник.
25. Цртање на правоаголен триаголник.
26. Цртање на правоаголен триаголник.
27. Цртање на правоаголен триаголник.
28.
 




6



7

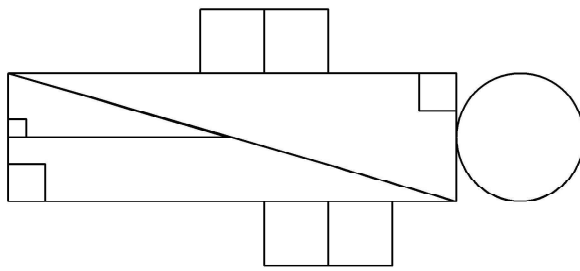



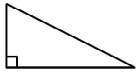

1



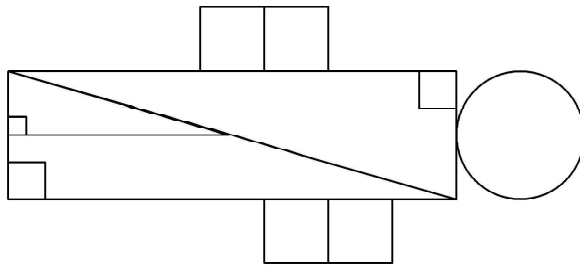
6
29. Триаголници = 8
30. Фигурата е четириаголник - квадрат.
31. Цртање на правоаголен триаголник.
32. Кругови = 4, Квадрати = 0


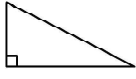

49.



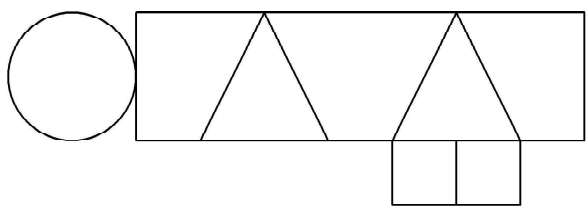
-  = 10
-  = 3
-  = 1


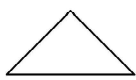

50.



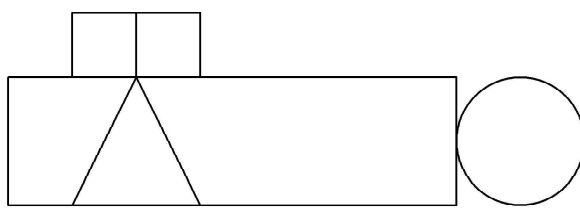
-  = 10
-  = 3
-  = 1




51.



-  = 4
-  = 2
-  = 1

52.



-  = 4
-  = 1
-  = 1